

# BACCALAURÉAT GÉNÉRAL

**SESSION 2018**

**SCIENCES**

**ÉPREUVE ANTICIPÉE**

**SÉRIES ES et L**

**Durée de l'épreuve : 1 heure 30 - Coefficient : 2**

Le sujet comporte 8 pages, numérotées de 1/8 à 8/8.

**L'usage de la calculatrice n'est pas autorisé.**

Le candidat traite les trois parties du sujet.
--

**Le saucisson sec, un moyen pour conserver de la viande**

On cherche à comprendre comment le saucisson sec peut se garder plusieurs mois à température ambiante.

**Document 1 : la fabrication du saucisson sec****Document 1a : la recette du saucisson sec**

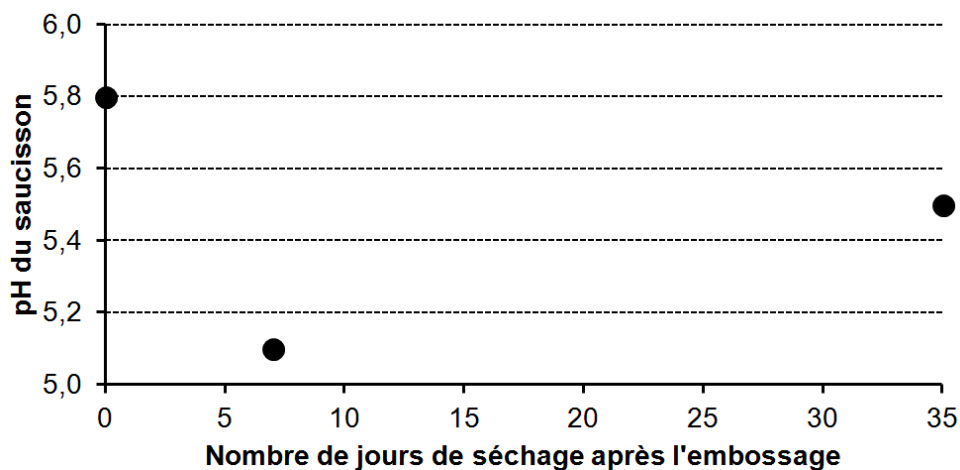
Le saucisson sec est composé d'un boyau d'animal fourré d'une garniture, qui est généralement composée de deux tiers environ de viande hachée maigre et d'un tiers de gras, généralement de porc. Celle-ci est additionnée de sel, de sucre, d'épices et d'agents de conservation (nitrites). Sont aussi ajoutés des ferments bactériens\* qui fabriquent de l'acide lactique.

Le boyau naturel est rempli avec la garniture, lors de l'étape appelée embossage.

La dernière étape est le séchage. Elle dure plusieurs semaines et entraîne l'évaporation de plus de la moitié de l'eau contenue au départ. C'est au cours de cette étape ultime que le saucisson acquiert ses qualités gustatives finales, grâce aux transformations physico-chimiques qui se déroulent dans la garniture. Le saucisson est consommable au bout de cinq semaines environ.

\* bactéries non dangereuses pour l'être humain et utilisées pour la transformation des aliments

Source : d'après <https://fr.wikipedia.org/>

**Document 1b : évolution du pH dans un saucisson au cours de son séchage**

Par comparaison, le pH de la viande de porc fraîche se situe autour de 7 après l'abattage et baisse en quelques heures jusqu'à 5,5 - 6.

**Document 1c : évolution de l'activité de l'eau\* ( $A_w$ ) au cours du séchage d'un saucisson**

L'activité de l'eau dans un saucisson est d'environ 0,98 au moment de l'embossage et atteint 0,87 au bout des 35 jours de séchage. Par comparaison, pour la viande de porc fraîche,  $A_w$  est compris entre 0,95 et 1.

\* l'activité de l'eau, notée  $A_w$ , quantifie la disponibilité de l'eau pour les microorganismes dans un aliment ( $0 \leq A_w \leq 1$ , plus  $A_w$  est grand, plus l'eau est disponible). L'ajout de sel est un moyen de faire diminuer  $A_w$ .

Sources : d'après [www.syntilab.fr](http://www.syntilab.fr) et SOLIGNAT G.,  
Produits de charcuterie, saucisson sec. Techniques de l'Ingénieur F 6 507

**Document 2 : quelques données nutritionnelles**

**Document 2a : apports nutritionnels du saucisson sec et de la viande de porc fraîche**

Aliment	Pour 100 g de saucisson sec	Pour 100 g de viande de porc fraîche
Protéines	26,5 g	18,6 g
Glucides (sucres)	1,2 g	0,0 g
Lipides (graisses)	33,2 g	10,6 g
Sel	4,8 g	0,2 g

Source : d'après <https://pro.anses.fr/TableCIQUAL>

**Document 2b : recommandations nutritionnelles de l'ANSES – Décembre 2016**

**- Pour les viandes transformées dont la charcuterie**

Consommation maximale recommandée : 25 g par jour

Raison invoquée : augmentation possible du risque de cancer colorectal (c'est-à-dire de la partie terminale de l'intestin), de maladies cardiovasculaires et de diabète de type 2 ; suspicion d'augmentation du risque de certains cancers digestifs à cause des nitrites.

**- Pour le sel**

Consommation maximale recommandée : pour un homme 7,6 g par jour / pour une femme 5,8 g par jour

Raison invoquée : augmentation possible du risque d'hypertension artérielle pouvant être facteur de maladies cardiovasculaires.

Source : d'après les rapports d'expertise de l'ANSES - Révision des repères de consommations alimentaires - Publication Décembre 2016

**Document 3 : valeurs des paramètres physico-chimiques propices au développement de bactéries susceptibles d'être responsables d'intoxications alimentaires graves**

Bactérie pathogène	Activité de l'eau (Aw) minimale	pH optimum
<i>Listeria monocytogenes</i>	0,92	≈ 7,0
<i>Salmonella</i>	0,94	7,0 à 7,5
<i>Escherichia coli</i>	0,95	6,0 à 7,0
<i>Clostridium botulinum</i>	0,93	4,6 à 9,0
<i>Vibrio parahaemolyticus</i>	0,94	7,8 à 8,6

Source : d'après Fiches de description de danger biologique transmissible par les aliments - ANSES

## **Commentaire rédigé**

Expliquer quels ingrédients et procédés mis en œuvre lors de la fabrication du saucisson permettent sa longue conservation à température ambiante, et pourquoi il est nécessaire pour la santé d'être attentif à sa consommation.

*Vous développerez votre argumentation en vous appuyant sur les documents et sur vos connaissances (qui intègrent, entre autres, les connaissances acquises dans les différents champs disciplinaires).*

**Recharger son téléphone à la gare en pédalant !**

Une table, une chaise et des pédales. Ces drôles de bureaux débarquent peu à peu dans nos gares et dans nos vies de voyageurs. Après les vélos d'appartement, voici les vélos de gare. Ces stations permettent de recharger des batteries de téléphone portable, tablette ou ordinateur.

**Document 1 : l'électricité humaine**

Il y a eu plusieurs projets cherchant à profiter de notre activité quotidienne pour récupérer de l'énergie : celle issue de nos pas sur les trottoirs ou sur les dalles d'une piste de danse, celle issue des mouvements de notre poignet. L'énergie produite en pédalant est sans doute la plus exploitable :

- Un adulte peut générer en pédalant une puissance d'environ 30 W.
- Augmenter de 30 points le pourcentage de charge de son téléphone portable demande vingt minutes d'effort. Par exemple, si le téléphone est chargé à 10 %, au bout de 20 min il sera chargé à 40 %.

*Source : d'après [www.consoglobe.com](http://www.consoglobe.com)*

**Document 2 : l'autonomie des smartphones**

L'autonomie des téléphones portables est liée à la quantité d'énergie pouvant être emmagasinée dans leur batterie.

L'énergie pouvant être emmagasinée dans les batteries des téléphones actuels varie selon les modèles. On peut estimer qu'elle est en moyenne de l'ordre de 10 Wh quand le téléphone est chargé à 100 %.

**Question 1**

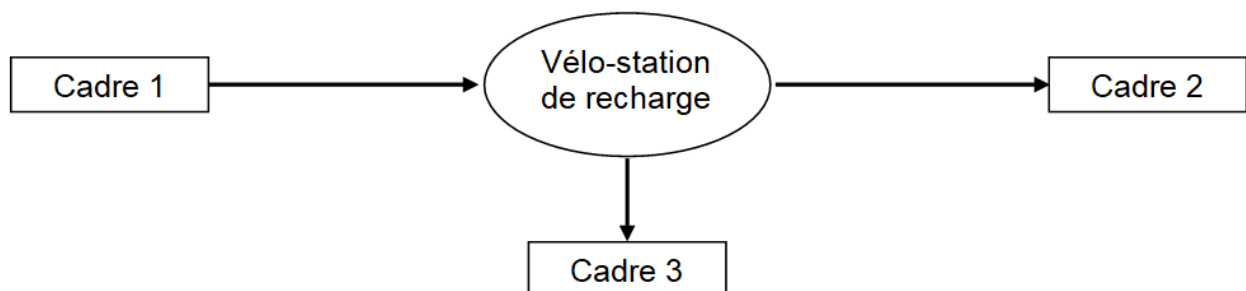
On s'intéresse à la chaîne énergétique d'une vélo-station de recharge.

Sans recopier la chaîne énergétique ci-dessous, indiquer la forme d'énergie à faire apparaître dans chaque cadre numéroté de 1 à 3.

Pour cela, préciser simplement sur la copie le numéro du cadre et lui associer une expression choisie parmi les suivantes :

*énergie électrique – énergie thermique – énergie lumineuse*

*énergie mécanique – énergie nucléaire*



## **Question 2**

Montrer que la valeur de l'énergie susceptible d'être fournie pendant une durée de 20 min par un adulte qui pédale est d'environ 10 Wh.

## **Question 3**

Montrer que d'après le document 2, 30 points de pourcentage de charge d'un téléphone portable actuel correspondent à environ 3 Wh.

## **Question 4**

À l'aide de la chaîne énergétique complétée en question 1, expliquer en quelques lignes la différence entre les deux valeurs calculées aux questions 2 et 3.

## **Question 5**

Expliquer brièvement pourquoi cette vélo-station de recharge s'inscrit dans une démarche de développement durable.

## Des cataractes radio-induites

Des études récentes ont suggéré que des professionnels de santé utilisant les rayons X lors de leur activité professionnelle présenteraient un risque accru de cataracte.

**Document 1 : le cristallin, un organe particulier et fragile**

Le cristallin est un organe constitué de milliers de cellules allongées et incurvées. Dans sa partie centrale, les cellules sont parfaitement transparentes et laissent passer la lumière. En effet, elles n'ont pas de noyau et sont dépourvues d'organites\*. Leur cytoplasme est constitué à plus de 90% de protéines appelées cristallines qui forment un gel transparent.

Du fait de leur maturation particulière, les cellules du cristallin disposent de capacités limitées pour se réparer. De plus, l'essentiel des cellules se forment au début de la vie et très peu après l'âge de 20 ans.

Ainsi, des dégâts, causés par exemple par les rayons ultraviolets ou d'autres radiations comme la radioactivité et les rayons X, peuvent avoir des conséquences irréversibles : les protéines cristallines se déstructurent et le cristallin devient opaque. C'est la cataracte.

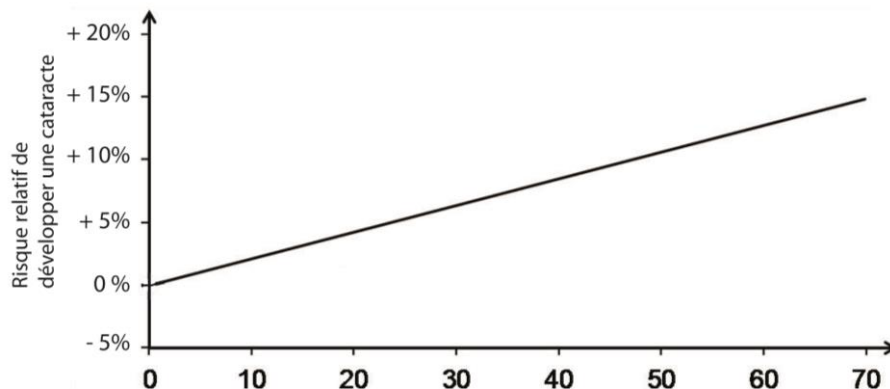
\* petits éléments entourés d'une membrane situés à l'intérieur de la cellule et ayant une fonction spécifique.

**Document 2 : un risque de cataracte chez des professionnels de santé**

Une étude française, portant sur 106 cardiologues qui opèrent le cœur en utilisant l'imagerie par rayons X, a montré que 17% de ces praticiens présentaient des opacités du cristallin contre seulement 5% pour des individus témoins non exposés aux radiations.

Aux Etats-Unis, des chercheurs ont évalué le risque de cataracte chez des techniciens en radiologie, qui utilisent des appareils à rayons X dans le cadre de leur activité professionnelle. Les résultats de l'étude sont montrés sur le graphique ci-dessous.

**Risque relatif (par rapport à des témoins non exposés) de développer une cataracte en fonction de la dose de rayon X reçue**



**Dose de rayons X cumulée, reçue au niveau de l'œil, pendant toute la durée de l'activité professionnelle**

(en milligray, unité indiquant la dose de radiation absorbée, en mJ/kg, par un individu, un organe, etc.)

Les résultats sont représentés par une droite à partir de données collectées

*Source : d'après Chodick G. et al., Am. J. Epidemiol. 2008;168:620-631.  
et Jacob S. et al., Int. J. Cardiol. 2013 Sep 1;167(5):1843-7.*

## **QUESTION :**

*Depuis 2011, suite à des recommandations de la Commission Internationale de Protection Radiologique, les professionnels de santé utilisant les rayons X doivent :*

- porter un dosimètre\* à proximité des yeux ;*
- porter des lunettes de protection plombées, qui limitent le passage des rayons X.*

*\* appareil qui enregistre les doses de rayons X reçues*

A partir des documents et des connaissances, justifier les mesures de protection et de prévention qui sont mentionnées ci-dessus.