

# BACCALAURÉAT GÉNÉRAL

SESSION 2020

**MATHÉMATIQUES**

Série : **S**

DURÉE DE L'ÉPREUVE : **4 heures.** – COEFFICIENT : **7**

***Ce sujet comporte 6 pages numérotées de 1 à 6,  
dont l'annexe page 6 est à rendre avec la copie.***

*L'usage de la calculatrice avec mode examen actif est autorisé.  
L'usage de la calculatrice sans mémoire, « type collègue », est autorisé.*

*Le sujet est composé de quatre exercices indépendants.*

*Le candidat doit traiter tous les exercices.*

*Dans chaque exercice, le candidat peut admettre un résultat précédemment donné dans le texte pour aborder les questions suivantes, à condition de l'indiquer clairement sur la copie.*

*Le candidat est invité à faire figurer sur la copie toute trace de recherche,  
même incomplète ou non fructueuse, qu'il aura développée.*

*Il est rappelé que la qualité de la rédaction, la clarté et la précision des raisonnements  
seront prises en compte dans l'appréciation des copies.*

### Exercice 1 (5 points)

#### Commun à tous les candidats

- On considère l'équation (E) :  $z^3 = 4z^2 - 8z + 8$  ayant pour inconnue le nombre complexe  $z$ .
  - Démontrer que, pour tout nombre complexe  $z$ ,
$$z^3 - 4z^2 + 8z - 8 = (z - 2)(z^2 - 2z + 4)$$
  - Résoudre l'équation (E).
  - Écrire les solutions de l'équation (E) sous forme exponentielle.

On munit le plan complexe d'un repère orthonormé direct  $(O ; \vec{u}, \vec{v})$ .  
Soit A, B, C et D les quatre points d'affixes respectives

$$z_A = 1 + i\sqrt{3} \quad z_B = 2 \quad z_C = 1 - i\sqrt{3} \quad z_D = 1$$

Ces quatre points sont représentés dans la **figure** ci-dessous.

- Quelle est la nature du quadrilatère OABC ? Justifier.
- Soit M le point d'affixe  $z_M = \frac{7}{4} + i\frac{\sqrt{3}}{4}$ .
  - Démontrer que les points A, M et B sont alignés.
  - Démontrer que le triangle DMB est rectangle.

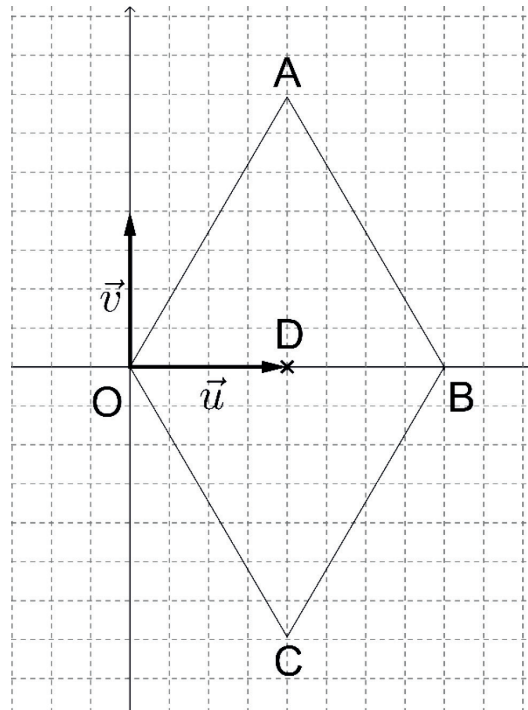


Figure de l'exercice 1

## Exercice 2 (5 points)

### Commun à tous les candidats

Le phaéton à bec rouge est un oiseau des régions intertropicales.

1. Lorsque le phaéton à bec rouge vit dans un environnement pollué, sa durée de vie, en année, est modélisée par une variable aléatoire  $X$  suivant une loi normale d'espérance  $\mu$  inconnue et d'écart-type  $\sigma = 0,95$ .

a. On considère la variable aléatoire  $Y$  définie par  $Y = \frac{X-\mu}{0,95}$ .

Donner sans justification la loi suivie par la variable  $Y$ .

b. On sait que  $P(X \geq 4) = 0,146$ .

Démontrer que la valeur de  $\mu$  arrondie à l'unité est 3.

2. Lorsque le phaéton à bec rouge vit dans un environnement sain, sa durée de vie, en année, est modélisée par une variable aléatoire  $Z$ .

Les courbes des fonctions de densité associées aux lois de  $X$  et de  $Z$  sont représentées sur l'**ANNEXE à rendre avec la copie**.

a. Quelle est la courbe de la fonction de densité associée à  $X$  ? Justifier.

b. Sur l'**ANNEXE à rendre avec la copie**, hachurer la zone du plan correspondant à  $P(Z \geq 4)$ .

On admettra par la suite que  $P(Z \geq 4) = 0,677$ .

3. Une étude statistique portant sur une région donnée, a permis d'établir que 30 % des phaétons à bec rouge vivent dans un environnement pollué ; les autres vivent dans un environnement sain.

On choisit au hasard un phaéton à bec rouge vivant dans la région donnée.

On considère les événements suivants :

- $S$  : « le phaéton à bec rouge choisi vit dans un environnement sain » ;
- $V$  : « le phaéton à bec rouge choisi a une durée de vie d'au moins 4 ans ».

a. Compléter l'arbre pondéré illustrant la situation sur l'**ANNEXE à rendre avec la copie**.

b. Déterminer  $P(V)$ . Arrondir le résultat au millième.

c. Sachant que le phaéton à bec rouge a une durée de vie d'au moins 4 ans, quelle est la probabilité qu'il vive dans un environnement sain ? Arrondir le résultat au millième.

### Exercice 3 (5 points)

#### Commun à tous les candidats

##### Partie A

Soit  $g$  la fonction définie sur l'ensemble des nombres réels  $\mathbf{R}$ , par

$$g(x) = x^2 + x + \frac{1}{4} + \frac{4}{(1 + e^x)^2}$$

On admet que la fonction  $g$  est dérivable sur  $\mathbf{R}$  et on note  $g'$  sa fonction dérivée.

1. Déterminer les limites de  $g$  en  $+\infty$  et en  $-\infty$ .
2. On admet que la fonction  $g'$  est strictement croissante sur  $\mathbf{R}$  et que  $g'(0) = 0$ . Déterminer le signe de la fonction  $g'$  sur  $\mathbf{R}$ .
3. Dresser le tableau de variations de la fonction  $g$  et calculer le minimum de la fonction  $g$  sur  $\mathbf{R}$ .

##### Partie B

Soit  $f$  la fonction définie sur  $\mathbf{R}$  par

$$f(x) = 3 - \frac{2}{1 + e^x}$$

On désigne par  $C_f$  la courbe représentative de  $f$  dans un repère orthonormé  $(0; \vec{i}, \vec{j})$ , représentée dans la **figure** ci-dessous.

Soit  $A$  le point de coordonnées  $(-\frac{1}{2}; 3)$ .

1. Démontrer que le point  $B(0; 2)$  appartient à  $C_f$ .
2. Soit  $x$  un réel quelconque.  
On note  $M$  le point de la courbe  $C_f$  de coordonnées  $(x; f(x))$ .  
Démontrer que  $AM^2 = g(x)$ .
3. On admet que la distance  $AM$  est minimale si et seulement si  $AM^2$  est minimal.  
Déterminer les coordonnées du point de la courbe  $C_f$  tel que la distance  $AM$  est minimale.
4. On admet que la fonction  $f$  est dérivable sur  $\mathbf{R}$  et on note  $f'$  sa fonction dérivée.
  - a. Calculer  $f'(x)$  pour tout réel  $x$ .
  - b. Soit  $T$  la tangente à la courbe  $C_f$  au point  $B$ .  
Démontrer que l'équation réduite de  $T$  est  $y = \frac{x}{2} + 2$ .
5. Démontrer que la droite  $T$  est perpendiculaire à la droite  $(AB)$ .

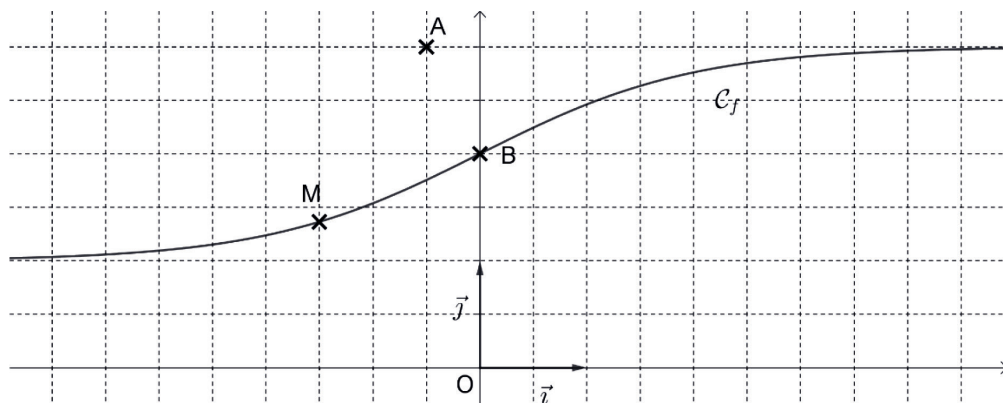


Figure de l'exercice 3, partie B.

### Exercice 4 (5 points)

#### Candidats n'ayant pas suivi l'enseignement de spécialité

Pour chacune des affirmations suivantes, indiquer si elle est vraie ou fausse, en justifiant la réponse.

Il est attribué un point par réponse exacte correctement justifiée. Une réponse non justifiée n'est pas prise en compte. Une absence de réponse n'est pas pénalisée.

1. **Affirmation 1** : L'équation  $(3 \ln x - 5)(e^x + 4) = 0$  admet exactement deux solutions réelles.

2. On considère la suite  $(u_n)$  définie par

$$u_0 = 2 \text{ et, pour tout entier naturel } n, u_{n+1} = 2u_n - 5n + 6$$

**Affirmation 2** : Pour tout entier naturel  $n$ ,  $u_n = 3 \times 2^n + 5n - 1$ .

3. On considère la suite  $(u_n)$  définie, pour tout entier naturel  $n$ , par  $u_n = n^2 + \frac{1}{2}$ .

**Affirmation 3** : La suite  $(u_n)$  est géométrique.

4. Dans un repère de l'espace, soit  $d$  la droite passant par le point  $A(-3; 7; -12)$  et de vecteur directeur  $\vec{u}(1; -2; 5)$ .

Soit  $d'$  la droite ayant pour représentation paramétrique 
$$\begin{cases} x = 2t - 1 \\ y = -4t + 3 \\ z = 10t - 2 \end{cases}, t \in \mathbf{R}$$

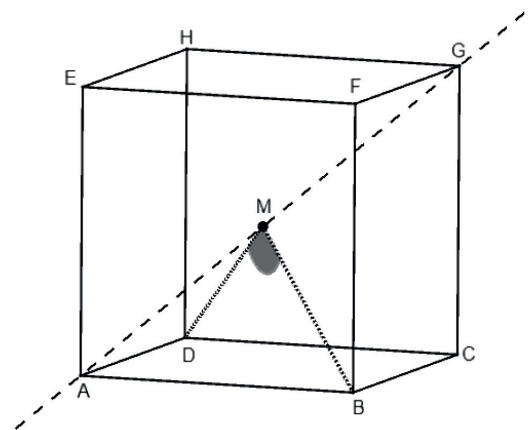
**Affirmation 4** : Les droites  $d$  et  $d'$  sont confondues.

5. On considère un cube ABCDEFGH. L'espace est muni du repère orthonormé  $(A; \vec{AB}, \vec{AD}, \vec{AE})$ .

Une représentation paramétrique de la droite (AG) est

$$\begin{cases} x = t \\ y = t \\ z = t \end{cases}, t \in \mathbf{R}$$

On considère un point M de la droite (AG).

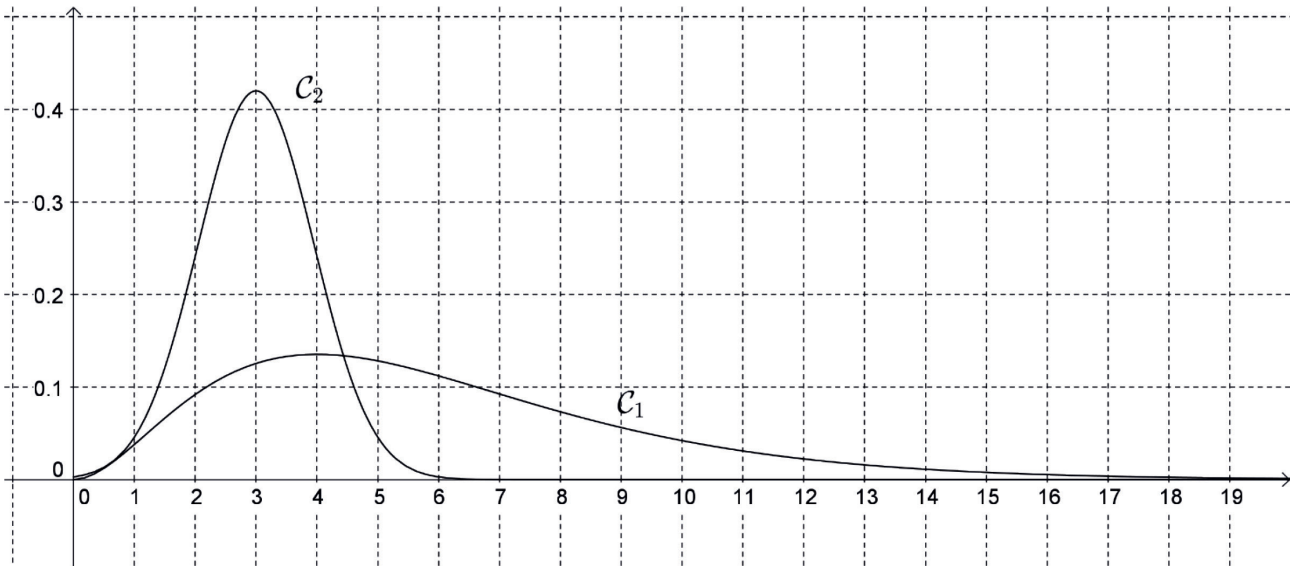


**Affirmation 5** : Il y a exactement deux positions du point M sur la droite (AG) telles que les droites (MB) et (MD) soient orthogonales.



ANNEXE : À RENDRE AVEC LA COPIE

Exercice 2 question 2



Exercice 2 question 3

