

# DIPLÔME NATIONAL DU BREVET

## SESSION 2019

### SCIENCES

#### Série générale

Durée de l'épreuve : 1 h 00

50 points

Dès que le sujet vous est remis, assurez-vous qu'il est complet

Ce sujet comporte **7** pages numérotées de la page **1/7** à la page **7/7**

Le candidat traite les 2 disciplines sur la même copie

ATTENTION : ANNEXE page 7/7 est à rendre avec la copie

L'usage de tout modèle de calculatrice, avec ou sans mode examen, est autorisé.

L'utilisation du dictionnaire est interdite

## PHYSIQUE-CHIMIE – Durée 30 minutes – 25 points


Toute réponse, même incomplète, montrant la démarche de recherche du candidat sera prise en compte dans la notation.

### Saut en parachute

Un parachutiste saute habituellement depuis un avion en plein vol à une altitude d'environ 3 à 4 km. Pour battre un record de vitesse, l'autrichien Felix Baumgartner a réalisé en 2012 un saut hors du commun depuis un ballon sonde à 39 km d'altitude.

Schématisation de deux sauts en parachute  
(Les échelles ne sont pas respectées).

Saut depuis un avion

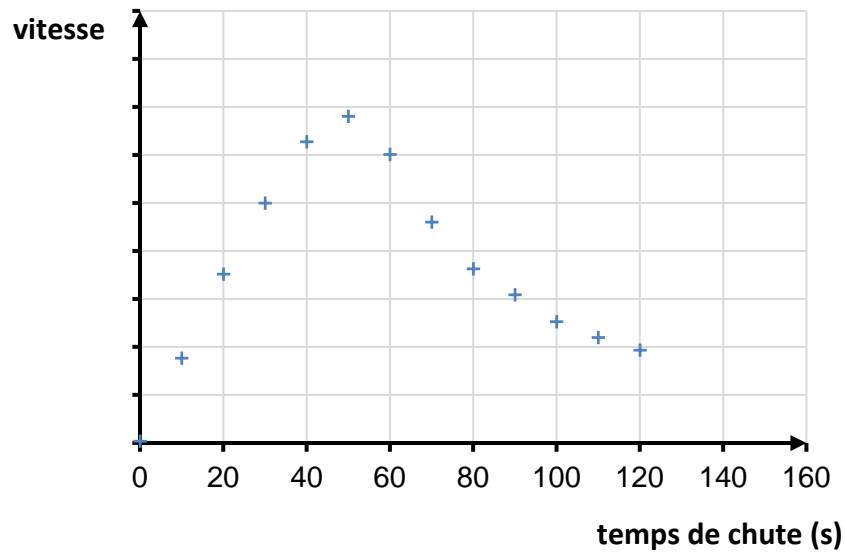


Saut de F. Baumgartner

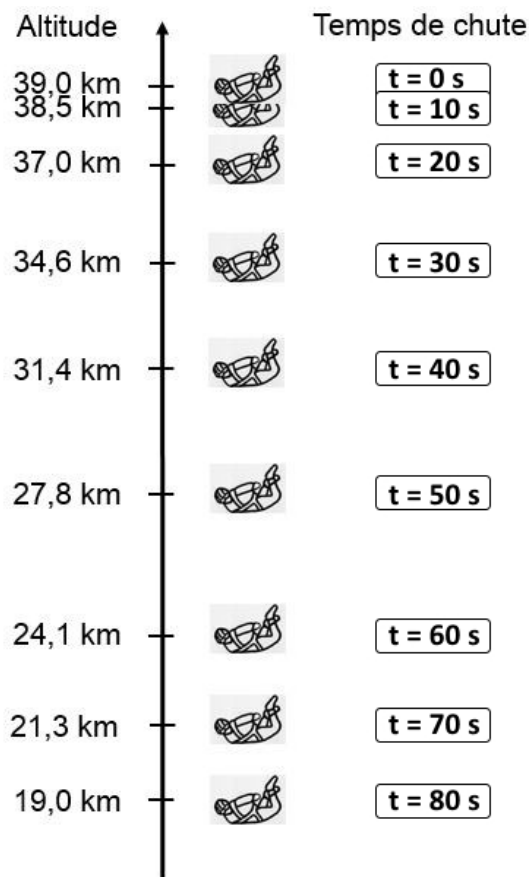


**Document 1** : évolution de la vitesse de F. Baumgartner par rapport au sol terrestre en fonction du temps, avant l'ouverture du parachute

(Les valeurs de la vitesse sont volontairement absentes).



**Document 2** : positions successives de F. Baumgartner au début de sa chute, avant l'ouverture du parachute



**Question 1 (4 points)** : parmi les propositions suivantes, indiquer, en justifiant la réponse à partir du document 1, celle qui satisfait aux caractéristiques du saut de F. Baumgartner.

Le mouvement est :

- **proposition a** : accéléré puis ralenti.
- **proposition b** : accéléré puis uniforme.
- **proposition c** : uniforme puis accéléré.

**Question 2 (6 points)** : montrer sans calcul que l'analyse du document 2 permet de retrouver la réponse précédente.

Le parachutiste est soumis à deux actions mécaniques : l'action de la Terre modélisée par le poids (aussi appelée force de pesanteur) et les frottements de l'air.

**Question 3 (4 points)** : indiquer pour chacune de ces actions, s'il s'agit d'une action de contact ou d'une action à distance.

**Question 4 (11 points)** : en exploitant les documents 1 et 2, expliquer à l'aide de calculs, si la vitesse maximale atteinte par F. Baumgartner est proche de 250 m/s, 370 m/s ou 470 m/s.